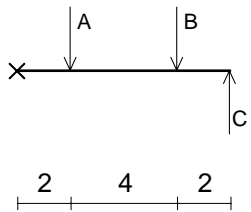


2009年度 春学期		練習問題(第1回)		問題・解答用紙 1/1	実施日 2009/4/22
科目名	出題者氏名	開講クラス	学生証番号		確認印
建築構造力学IA 同演習	諸岡 繁洋	8AEBOOOO その他			
開講曜日・時限	水曜・3, 4限	開講教室	6B-106	氏名	

×点から力までの距離、力の回転の方向を求めなさい。

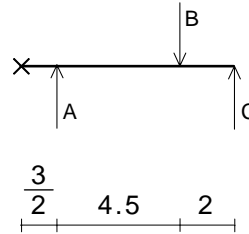
回転の方向は、時計回りの時には+、反時計回りの時には-で答え、回転していない場合は「0」と答えなさい。

(1)



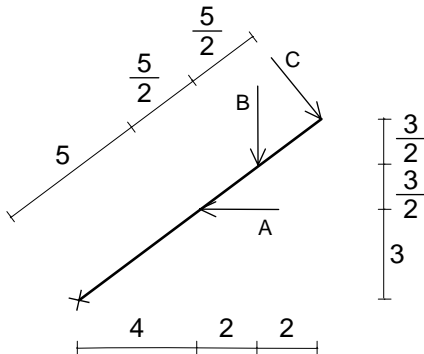
	A	B	C
距離			
回転			

(2)



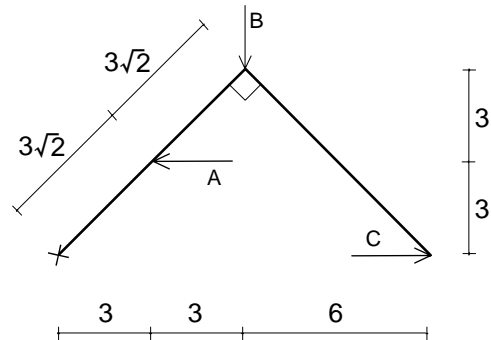
	A	B	C
距離			
回転			

(3)



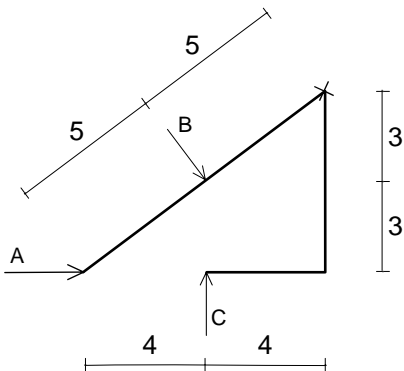
	A	B	C
距離			
回転			

(4)



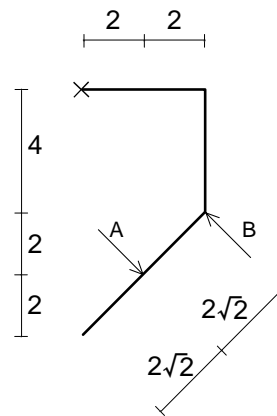
	A	B	C
距離			
回転			

(4)



	A	B	C
距離			
回転			

(6)



	A	B
距離		
回転		