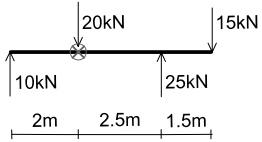


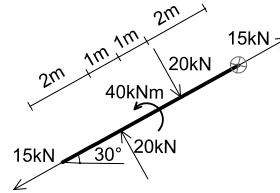
2009年度 春学期		練習問題(第2回)		問題・解答用紙 1/1	実施日 2009/4/29
科目名	出題者氏名	開講クラス	学生証番号		確認印
建築構造力学IA 同演習	諸岡 繁洋	8AEBOOOO その他			
開講曜日・時限	水曜・3, 4限	開講教室	6B-106	氏名	

【問題1】力の釣合式（並進2方向、回転）を求めて、釣合状態にあるか確認しなさい。

(1)

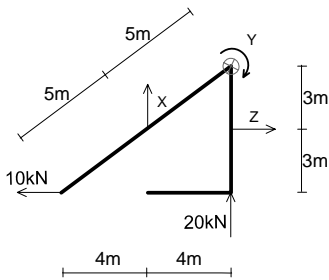


(2)

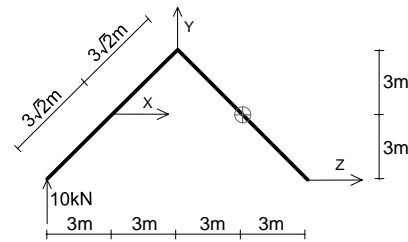


【問題2】力の釣合式が成り立つように、X、Y、Zの値を求めなさい。また、回転の釣合式は×印の点を中心に考えなさい。

(1)



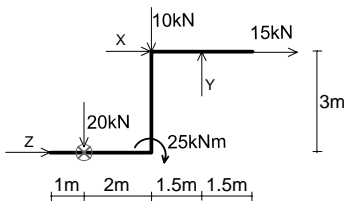
(2)



X	Y	Z

X	Y	Z

(3)



X	Y	Z