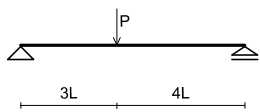


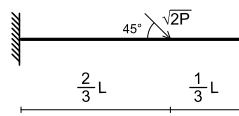
建築構造力学 I A・同演習 第3回 演習問題 実施日 2010/05/12	学生証 番号		氏名	得点

問1 反力を求め、力の釣合状態を図示しなさい。

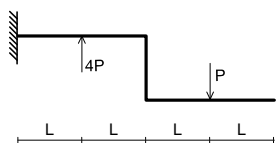
(1)



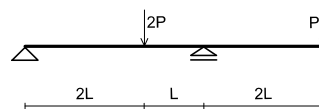
(2)



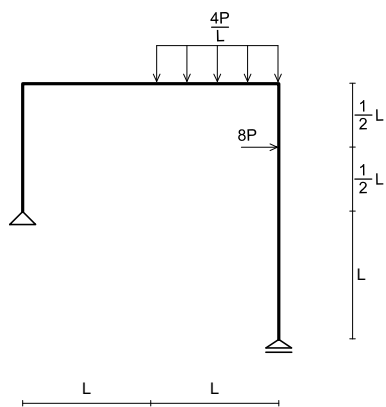
(3)



(4)



(5)



(6)

