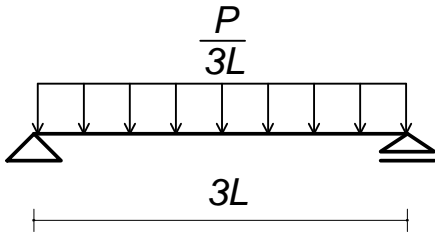


建築構造力学 I A・同演習 第8回 演習問題 実施日2010/06/16	学生証 番号		氏名		得点

曲げモーメント図(BMD)、せん断力図(SFD)を描きなさい。

(1)



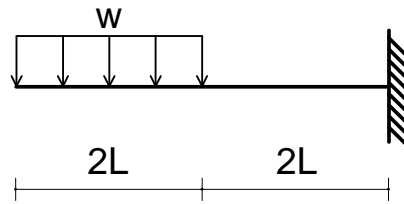
BMD



SFD



(2)



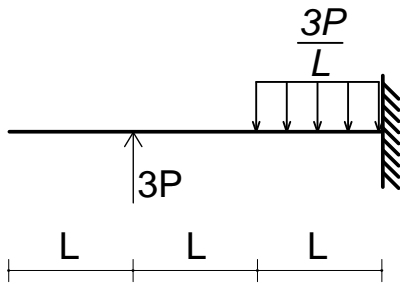
BMD




SFD




(3)



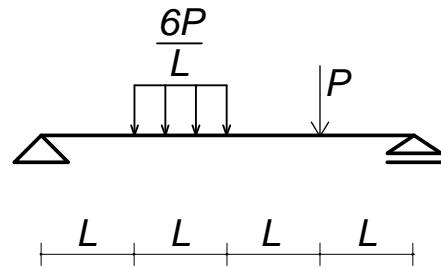
BMD



SFD



(4)



BMD



SFD

