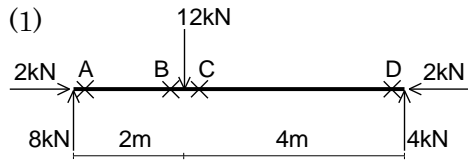
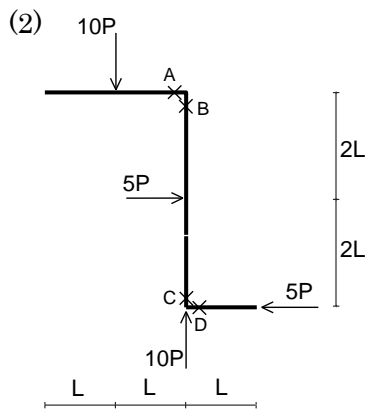


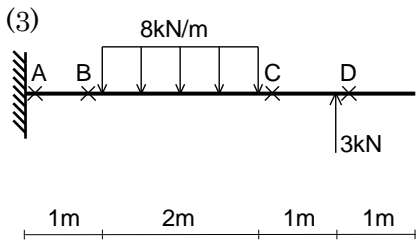
問. 図中×印点での断面力（軸力N、せん断力Q、曲げモーメントM）を求めなさい。
 また、曲げモーメントにより部材が伸びる側に“)”を、生じない場合には“0”を描きなさい。



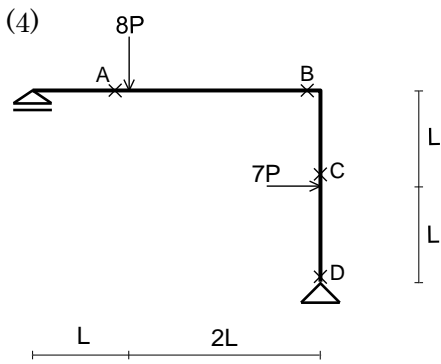
	N	Q	M
A			
B			
C			
D			



	N	Q	M
A			
B			
C			
D			



	N	Q	M
A			
B			
C			
D			



	N	Q	M
A			
B			
C			
D			