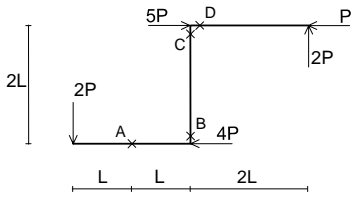


図中×印点での断面力（軸力N、せん断力Q、曲げモーメントM）を求めなさい。

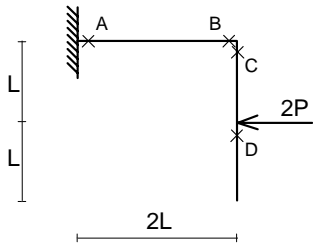
なお、曲げモーメントにより部材が伸びる側に“()”を描きなさい。

(1)



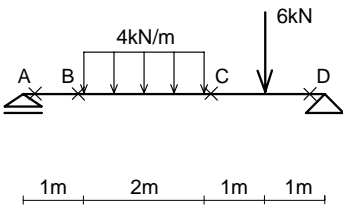
	N	Q	M
A			
B			
C			
D			

(2)



	N	Q	M
A			
B			
C			
D			

(3)



	N	Q	M
A			
B			
C			
D			