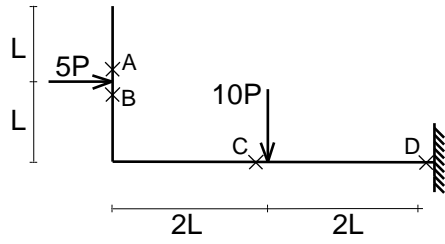


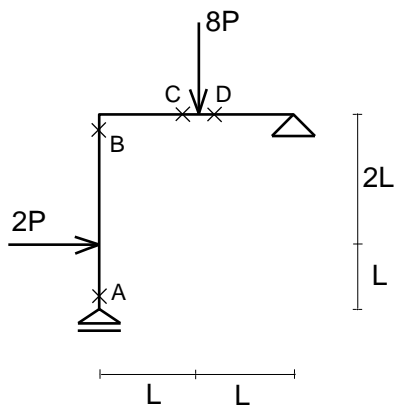
問1 図中×印点での断面力（軸力N、せん断力Q、曲げモーメントM）を求めなさい。
 なお、曲げモーメントにより部材が伸びる側に“()”を描きなさい。

(1)



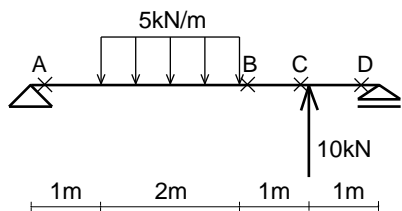
	N	Q	M
A			
B			
C			
D			

(2)



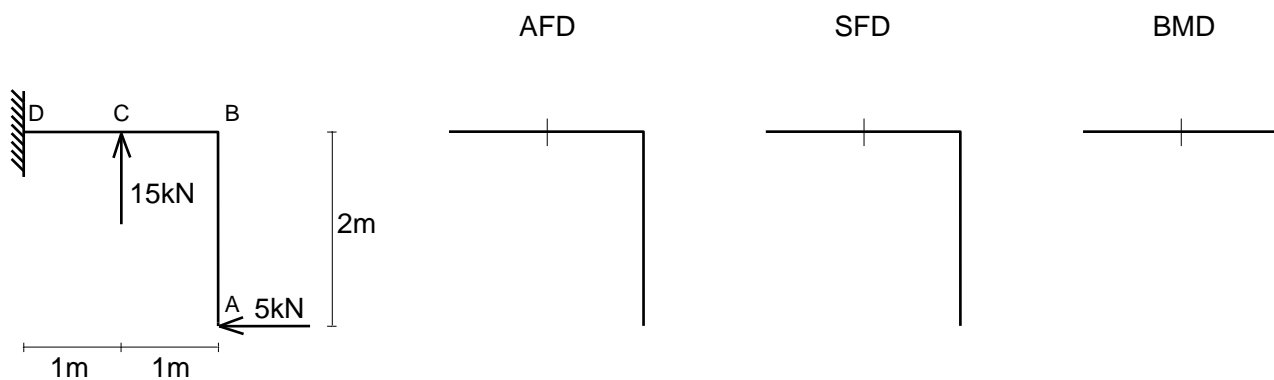
	N	Q	M
A			
B			
C			
D			

(3)



	N	Q	M
A			
B			
C			
D			

問2 軸力図 (AFD)、せん断力図 (SFD)、曲げモーメント図 (BMD) を図中に描きなさい。



AFD

SFD

BMD

