

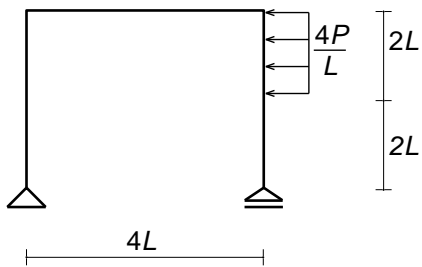


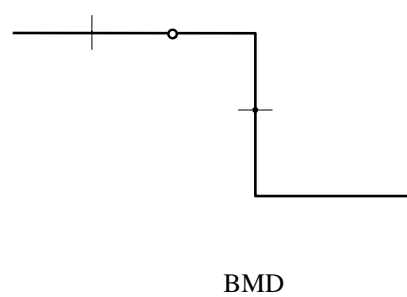
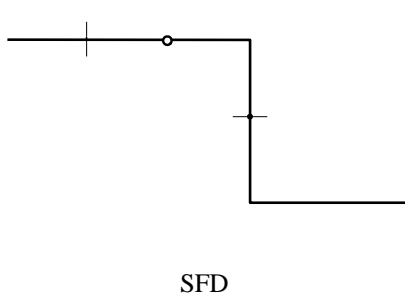
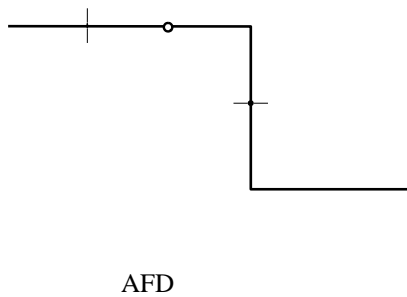
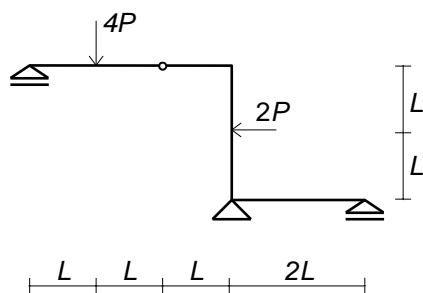
建築構造力学 I A・同演習 第11回 演習問題 実施日2012/07/11	学生証 番号		氏名		得点
--	-----------	--	----	--	----

問1 軸力図(AFD)、せん断力図(SFD)、曲げモーメント図(BMD)を描きなさい。

(1)

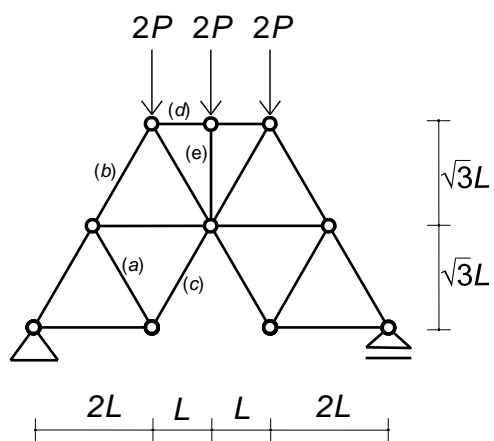


(2)



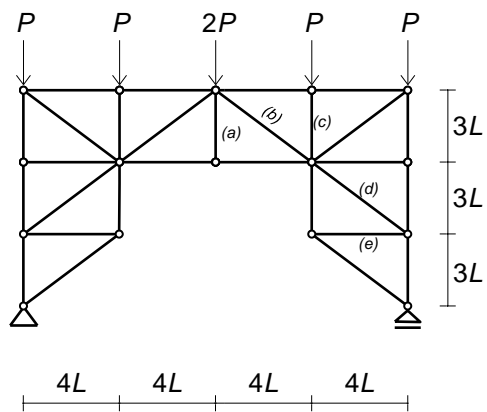
問2 各部材の軸力を求めなさい。ただし、引張は(+)圧縮は(-)とする。

(1)



(a)	(b)	(c)	(d)	(e)

(2)



(a)	(b)	(c)	(d)	(e)